



BAHAGI

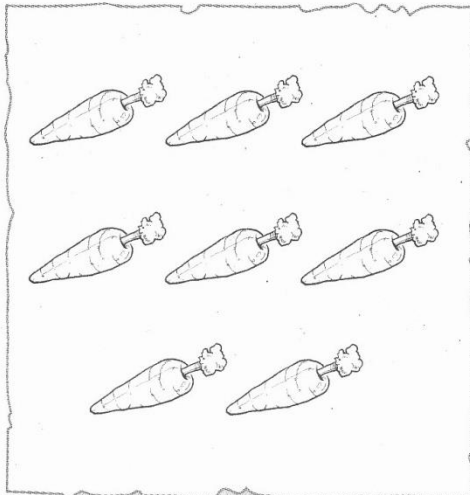


A Bulatkan objek berikut secara sama banyak.

5.1(i)(a)

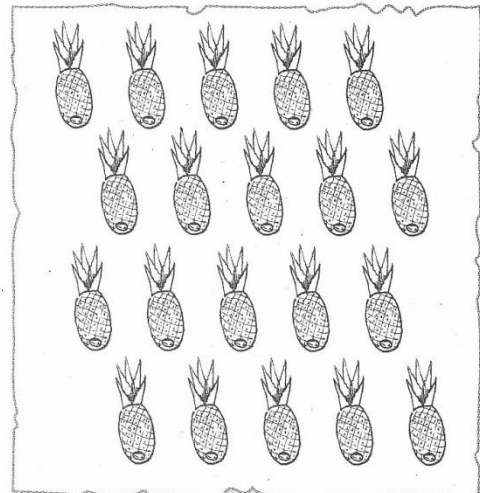
B2DIEI

1




dua-dua

2




empat-empat

3



lima-lima

4



sepuluh-sepuluh

Tema	Band	Standard Kandungan	Standard Pembelajaran	Deskriptor	Evidens	Standard Prestasi
Bahagi	2	5.1 Menulis ayat matematik bagi operasi bahagi.	5.1(i)(a)	B2DI	EI	B2DIEI

PENILAIAN

Menguasai

Tidak Menguasai

Tandatangan guru: _____