

SULIT



**SEKOLAH KEBANGSAAN SATU JALAN BATU TIGA
41150 KLANG, SELANGOR**

**PEPERIKSAAN AKHIR TAHUN 2016
DUNIA SAINS DAN TEKNOLOGI (KERTAS SATU)
TAHUN 2**

Enam puluh minit

JANGAN BUKA KERTAS SOALAN INI SEHINGGA DIBERITAHU

1. Kertas soalan ini mengandungi 40 soalan
 2. Kamu dikehendaki menjawab semua soalan.
 3. Bahagian A, tiap-tiap soalan diikuti oleh tiga pilihan jawapan iaitu A, B, dan C. Bagi setiap soalan, pilih satu jawapan sahaja. Hitamkan jawapan kamu pada kertas jawapan yang disediakan.
-

NAMA : _____

KELAS : _____

KERTAS INI MENGANDUNGI 6 HALAMAN BERCETAK TERMASUK MUKA HADAPAN

Arahan: setiap soalan diikuti tiga pilihan jawapan, iaitu A, B, dan C. bulatkan satu jawapan yang betul dan hitamkan pilihan jawapan pada kertas jawapan yang disediakan.

1. Manusia memerlukannya untuk terus hidup

- A. Minuman
- B. Kereta
- C. Duit

2. Suraya berasa lapar. Dia memerlukan..

- A. Air
- B. Udara
- C. Makanan

3. Keperluan asas manusia adalah seperti di bawah, **kecuali** ...

- A. Makanan
- B. Minuman
- C. Pakaian

4. Apakah yang akan berlaku jika kita tidak mendapat keperluan asas?

- A. Kita akan gembira
- B. Kita akan sedih
- C. Kita akan mati

5. Makanan berkhasiat yang memberi tenaga ialah...

- A. Lobak merah
- B. Udang
- C. Roti

6.



Gambar di atas adalah makanan yang membantu

- A. memberi tenaga
- B. membantu tumbesaran
- C. membantu menjaga kesihatan

7.



Makanan di atas sangat penting untuk...

- A. Memberi tenaga
- B. Membantu tumbesaran
- C. Membantu menjaga kesihatan

8. Berikut adalah menu yang sesuai untuk makan tengah hari

- A. Nasi, ayam goreng, buah tembikai, air sirap
- B. Ayam goreng, kentang goreng, air susu
- C. Burger, kentang goreng, aiskrim

9. Mengapakah kita tidak digalakkan memakan makanan yang tidak bersih?

- A. Untuk menjimatkan wang
- B. Untuk mendapatkan penyakit
- C. Untuk menjamin kesihatan

10.



Gambar di atas menunjukkan...

- A. Manusia semakin membesar
- B. Manusia semakin bertambah
- C. Manusia memerlukan makanan

11. Semasa membesar, kita akan mengalami pertambahan dari segi berikut

- A. rupa
- B. tinggi
- C. bilangan

12. Perubahan saiz juga boleh dilihat dari segi..

- A. Saiz tapak tangan
- B. Bilangan kaki
- C. Bilangan jari

13.



Ini adalah seluar yang dipakai oleh Hadif semasa berumur setahun. Mengapakah dia tidak boleh memakai seluar tersebut ketika berumur 8 tahun?

- A. Hadif semakin membesar
- B. Hadif sudah tidak suka seluar tersebut
- C. Hadif sudah pandai memilih pakaian yang cantik

14.



Haiwan di atas memerlukan _____ untuk terus hidup


- A. Makanan
- B. Pakaian
- C. Kawan

15. Seekor Hemster diletakkan di dalam sebuah sangkar. Selepas seminggu, Hemster tersebut didapati telah mati. Apakah yang tidak diletakkan bersama hemster tersebut?

- A. air
- B. pakaian
- C. kawan

16. Mengapakah keperluan asas penting kepada haiwan?

- A. Untuk membesar
- B. Untuk bermain
- C. Untuk terus hidup



17.

Apakah makanan haiwan di atas?

- A. daging
- B. burung
- C. daun

18. Makanan bagi seekor anab ialah...

- A. Lipas
- B. Katak
- C. Lobak

19. Haiwan-haiwan berikut makan tumbuhan sahaja

- A. Kambing, rusa, kerbau
- B. Lembu, harimau, kuda
- C. Buaya, monyet, zirafah

20. Haiwan yang makan haiwan lain ialah...

- A. Kambing
- B. Zirafah
- C. Serigala

21. Monyet tinggal di...
- Dalam lubang
 - Dalam tanah
 - Atas pokok
22. Haiwan apakah yang tinggal di dalam gua?
- Ikan
 - Harimau
 - Beruang
23. Apakah kepentingan haiwan kepada manusia?
- Sebagai sumber makanan
 - Sebagai sumber pakaian
 - Sebagai tempat tinggal
24. Haiwan juga penting kepada tumbuhan kerana
- Membantu merosakkan tumbuhan
 - Membantu menyebarkan biji benih
 - Membantu memakan tumbuhan



25. Nurain pulang dari sekolah dan terjumpa seekor seekor anak kucing di dalam longkang. Apakah tindakan yang seharusnya dia lakukan?
- Membiarkan sahaja
 - Membantu kucing itu
 - Melaporkan kepada polis
26. Haiwan berikut membiak dengan cara bertelur
- Tikus
 - Ular
 - Kambing

27. Manakah antara haiwan berikut melahirkan anak?
- Ikan paus
 - buaya
 - Itik
28. Haiwan apakah yang serupa dengan ibunya?
- Katak
 - Kura-kura
 - Rama-rama
29. Haiwan berikut tidak sama dengan ibunya semasa kecil
- Lembu
 - Arnab
 - Katak
30. Berikut adalah keperluan asas bagi tumbuhan
- Tempat perlindungan
 - Cahaya matahari
 - Makanan
31. Pokok perlu _____ setiap hari
- Di baja
 - Di siram
 - Diberi makan
32. Semasa proses tumbesaran, tumbuhan akan bertambah...
- Bilangan kaki
 - Bilangan bunga
 - Bilangan daun
33. Hadif menyiram pokok kaktusnya 2 kali sehari. Selepas 2 minggu, pokok kaktusnya mati. Mengapa?
- Kaktus memerlukan lebih banyak air
 - Kaktus tidak memerlukan air yang banyak
 - Kaktus tidak memerlukan air langsung

34. Manakah antara bawah adalah sumber cahaya?




- A. lampu
- B. Radio
- C. Kipas

35. Apakah yang akan terjadi sekiranya cahaya tidak dapat menembusi sesuatu objek ?

- A. Terhasilnya bunyi
- B. Terhasilnya cahaya
- C. Terhasilnya bayang-bayang

36. Apakah bayang-bayang bagi objek di bawah?



- A. 
- B. 
- C. 

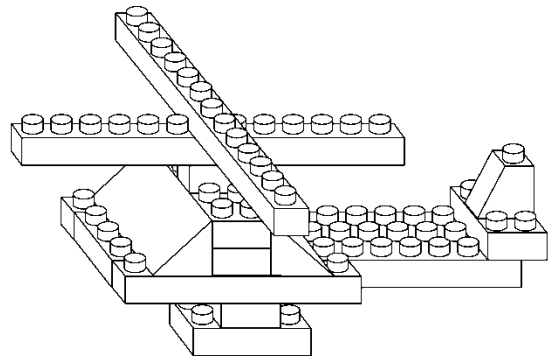
37. Apakah yang terkandung dalam manual bergambar?

- A. Harga komponen
- B. Pembekal komponen
- C. Maklumat komponen

38. Bahagian-bahagian binaan yang digunakan untuk membina sesuatu model dipanggil

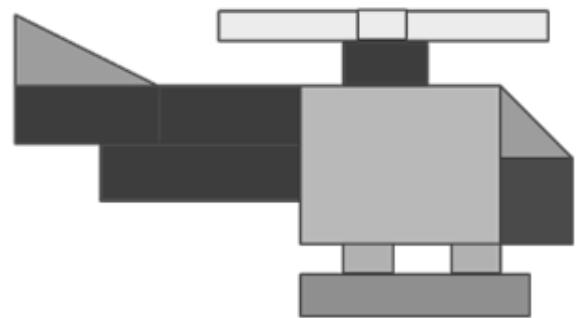
- A. Model
- B. Manual
- C. Komponen

39. Apakah nama model bagi binaan di bawah



- A. Helikopter
- B. Kapal layar
- C. Keretapi

40. Apakah bentuk asas yang tidak terdapat di dalam rajah model di bawah



- A. Segiempat sama
- B. Segitiga
- C. bulatan