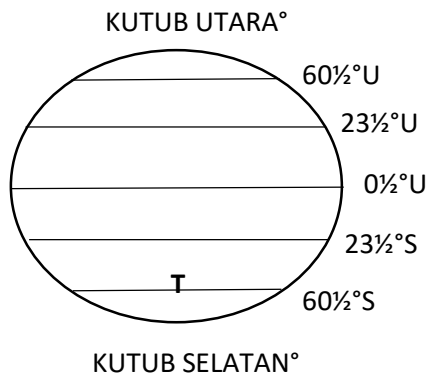


**BAHAGIAN A: Arahan:** soalan yang berikut diikuti pilihan jawapan A, B, C dan D. Pilih jawapan yang betul.



1. Latitud bagi T dalam rajah di atas ialah garisan ?
  - A. Jadi
  - B. Artik
  - C. Antartik
  - D. Khatulistiwa
2. Garisan longitud Meridian Greenwich berada pada kedudukan
  - A. 0°
  - B. 90°T
  - C. 180°B
  - D. 180°T
3. Apakah latitud antara garisan Jadi dan garisan Sartan?
  - A. Artik
  - B. Khatulistiwa
  - C. Jadi
  - D. Sartan

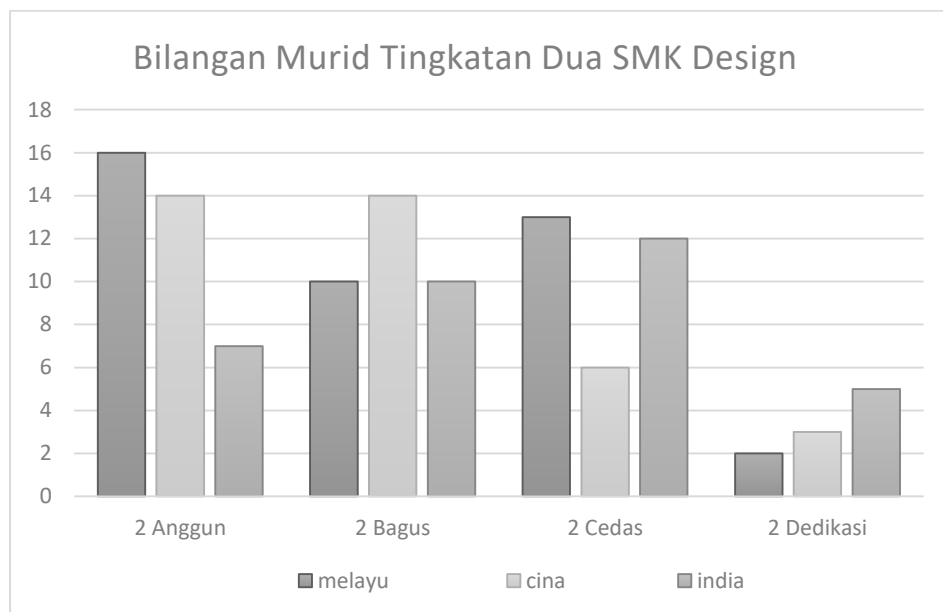
**Soalan 4 dan 5** berdasarkan skala di bawah.

1 cm sama dengan 2 km

4. Pilih Skala lurus yang sama dengan penyataan di atas?
  - A. \_\_\_\_\_
  - B. \_\_\_\_\_
  - C. \_\_\_\_\_
  - D. \_\_\_\_\_

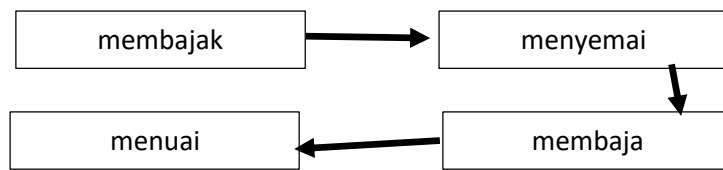
5. Dua sentimeter bagi skala lurus di atas mewakili
- 1 kilometer
  - 2 kilometer
  - 4 kilometer
  - 6 kilometer

Soalan 6 dan 7 berdasarkan graf di bawah.



6. Di kelas manakah terdapat pelajar Melayu lebih ramai daripada pelajar bangsa lain?
- Tingkatan 2 Anggun dan 2 Cedas
  - Tingkatan 2 Bagus dan 2 Cedas
  - Tingkatan 2 Cedas dan 2 Dedikasi
  - Tingkatan 2 Dedikasi dan 2 Bagus
7. Di kelas manakah pelajar India lebih ramai daripada pelajar Cina dan Melayu?
- Tingkatan 2 Anggun
  - Tingkatan 2 Bagus
  - Tingkatan 2 Cedas
  - Tingkatan 2 Dedikasi
8. Apakah rajah yang memberikan penerangan berkenaan sesuatu proses penanaman padi?
- Peta
  - Petunjuk
  - Rajah kitaran
  - Gambar tunggal

Soalan 9 berdasarkan rajah di bawah



9. Rajah di atas menerangkan proses

- A. Penenunan kain
- B. Penanaman padi
- C. Penanaman getah
- D. Penanaman kelapa sawit

10. Apakah peta pelancongan?

- A. Peta kejadian lepas
- B. Peta kawasan tanah pamah sahaja
- C. Peta bergambar berunsur ciri geografi
- D. Peta lakar yang mengandungi pola petempatan

11. Ciri budaya yang manakah mudah diperolehi melalui peta pelancongan di pinggir laut?

- A. Pokok koko
- B. Pokok kelapa
- C. Pokok tebu
- D. Pokok kelapa sawit

12. Bandar manakah yang mempunyai penduduk yang paling padat?

- A. Kuantan
- B. Kelantan
- C. Johor Bahru
- D. Kuala Lumpur

- Kawasan yang subur
- Tumpuan penduduk

13. Maklumat di atas berkaitan dengan kawasan berpenduduk padat terdiri daripada golongan?

- A. Petani
- B. Warga asing
- C. Setinggan
- D. Kakitangan kerajaan

14. Apakah faktor yang menyebabkan kadar kematian bayi yang semakin menurun di Malaysia?
- A. Jangka hayat menurun
  - B. Penduduk berkurangan
  - C. Pertumbuhan penduduk negatif
  - D. Taraf kehidupan yang semakin meningkat.
15. Migasi luar bandar ke bandar yang sering melibatkan golongan remaja lepasan sekolah kerana faktor tolakan seperti
- A. Bencana alam
  - B. Kekurangan makanan
  - C. Kekurangan kenderaan
  - D. Kekurangan perkerjaan di tempat asal
16. Pencemaran udara yang berlaku di pusat bandar kerana
- i. Asap kilang
  - ii. Kekurangan makanan
  - iii. Penebangan hutan semula jadi
  - iv. Pertambahan bilangan kenderaan
- A. I dan II
  - B. II dan IV
  - C. III dan IV
  - D. I dan IV
17. Apakah kaedah yang sesuai untuk mengurangkan kesesakan lalu lintas?
- A. Menaik taraf perhentian teksi
  - B. Mengurangkan harga minyak petroleum
  - C. Memberikan peluang perkerjaan
  - D. Menyediakan kemudahan pengangkutan awam
18. Yang manakah sistem perhubungan paling awal di Malaysia?
- A. Radio
  - B. Telefon
  - C. Perkhidmatan pejabat pos
  - D. Kemudahan internet
19. Kepentingan jalan air di Sabah dan Sarawak pada masa dahulu dipengaruhi oleh
- A. Kehidupan yang mewah
  - B. Jalan yang selamat dan baik
  - C. Keadaan muka bumi
  - D. Keadaan pinggir laut

20. Jaringan pengangkutan darat yang padat dipengaruhi oleh

- A. Kepadatan penduduk
- B. Penebangan hutan
- C. Ramainya pedatang asing
- D. Keunikan

Isikan pilihan jawapan anda di ruangan yang di sediakan di bawah.

<b>1</b>	A	B	C	D		<b>11</b>	A	B	C	D
<b>2</b>	A	B	C	D		<b>12</b>	A	B	C	D
<b>3</b>	A	B	C	D		<b>13</b>	A	B	C	D
<b>4</b>	A	B	C	D		<b>14</b>	A	B	C	D
<b>5</b>	A	B	C	D		<b>15</b>	A	B	C	D
<b>6</b>	A	B	C	D		<b>16</b>	A	B	C	D
<b>7</b>	A	B	C	D		<b>17</b>	A	B	C	D
<b>8</b>	A	B	C	D		<b>18</b>	A	B	C	D
<b>9</b>	A	B	C	D		<b>19</b>	A	B	C	D
<b>10</b>	A	B	C	D		<b>20</b>	A	B	C	D

(20 markah)

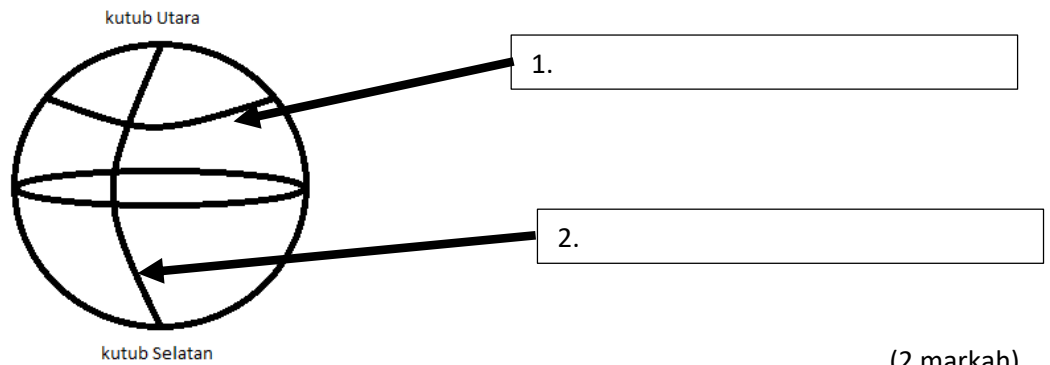
## BAHAGIAN B

denai	pedalaman	Pelabuhan	Gajah	Pelabuhan Klang
Kereta lembu	Pelabuhan Pulau Pinang	Sungai	Bot	Kuala Sepetang
Negeri selat	radio	Pulau pinang	beduk	telefon

1. Sistem pengangkutan awal di Malaysia menggunakan \_\_\_\_\_ dan jalan tanah merah di darat.
2. Jalan denai penting bagi kegunaan masyarakat yang tinggal di kawasan \_\_\_\_\_.
3. Penggunaan lorong jalan kaki menggunakan \_\_\_\_\_ dan \_\_\_\_\_ untuk mengangkut padi, sayur-sayuran, rotan, damar dan buah-buahan.
4. Jalan air yang utama ialah melalui sungai dengan menggunakan \_\_\_\_\_ dan perahu bagi mengangkut penumpang.
5. Ketuk-ketuk dan \_\_\_\_\_ di gunakan oleh sesetengah masyarakat untuk memberitahu tentang kematian, waktu sembahyang, hari keramaian dan lain-lain.
6. Pengangkutan zaman penjajah yang diberi tumpuan adalah melalui \_\_\_\_\_, jalan raya, jalan kereta api dan \_\_\_\_\_.
7. Pelabuhan awal yang menggerakkan sistem ekonomi zaman lampau ialah \_\_\_\_\_, \_\_\_\_\_ dan \_\_\_\_\_.
8. Perkhidmatan \_\_\_\_\_ dan telephone ialah alat komunikasi yang awal.
9. Pada tahun 1862 telah dibina perkhidmatan pos yang pertama untuk \_\_\_\_\_ . Pada tahun 1886 diadakan perkhidmatan \_\_\_\_\_.
10. Tahun 1942 terdapat stesen radio yang pertama di \_\_\_\_\_.

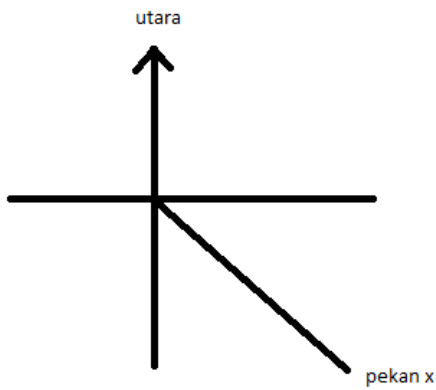
(15 markah )

A. berdasarkan glob di bawah, namakan garisan **latitud** dan **longitud** pada ruangan yang disediakan.

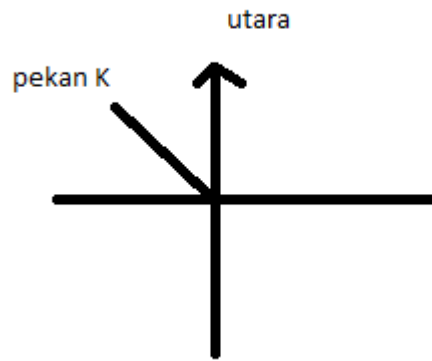


(2 markah)

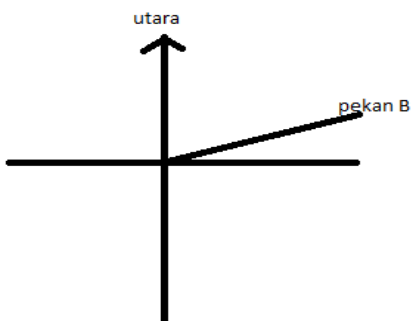
B. Berdasarkan rajah dibawah, cari bearing sudutan tempat-tempat yang dinyatakan.



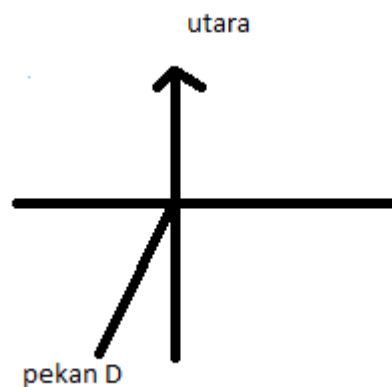
1. Bearing pekan X ialah :



2. Bearing pekan K ialah :



3. Bearing pekan B ialah :



4. Bearing pekan D ialah :

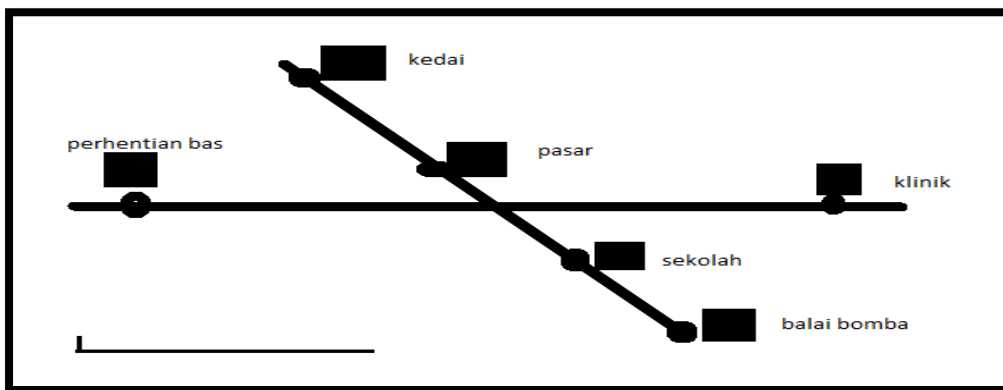
(4 markah)

C. Lukiskan skala lurus berdasarkan soalan di bawah.

	Skala perkataan	Skala lurus
(1)	1 cm di atas peta bersamaan dengan 1 km di bumi	
(2)	1 cm di atas peta bersamaan dengan 2 km di bumi	
(3)	1 cm di atas peta bersamaan dengan 5 km di bumi	
(4)	2 cm di atas peta bersamaan dengan 4 km di bumi	

D. Kira jarak lurus di tempat yang berikut.

(4 markah)



	Tempat	Jarak di muka bumi
(a)	Jarak dari pasar ke kedai	
(b)	Jarak dari sekolah ke pasar	
(c)	Jarak dari pasar ke perhentian bas	
(d)	Jarak dari pasar ke balai bomba	
(e)	Jarak dari sekolah ke klinik	

(5 markah)

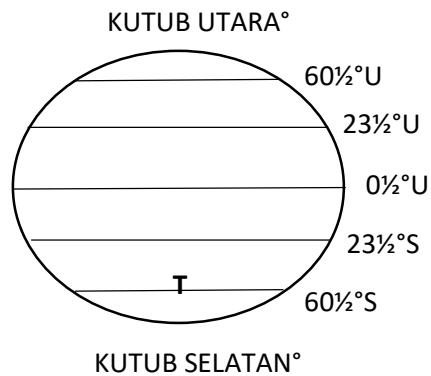
Disediakan oleh :

Disemak oleh:

Disahkan oleh :

Jawapan

**BAHAGIAN A: Arahan:** soalan yang berikut diikuti pilihan jawapan A, B, C dan D. Pilih jawapan yang betul.



1. Latitud bagi T dalam rajah di atas ialah garisan ?
  - A. Jadi
  - B. Artik
  - C. Antartik**
  - D. Khatulistiwa
2. Garisan longitud Meridian Greenwich berada pada kedudukan
  - A. 0°**
  - B. 90°T
  - C. 180°B
  - D. 180°T
3. Apakah latitud antara garisan Jadi dan garisan Sartan?
  - A. Artik
  - B. Khatulistiwa**
  - C. Jadi
  - D. Sartan

**Soalan 4 dan 5** berdasarkan skala di bawah.

1 cm sama dengan 2 km

4. Pilih Skala lurus yang sama dengan pernyataan di atas?

E. \_\_\_\_\_

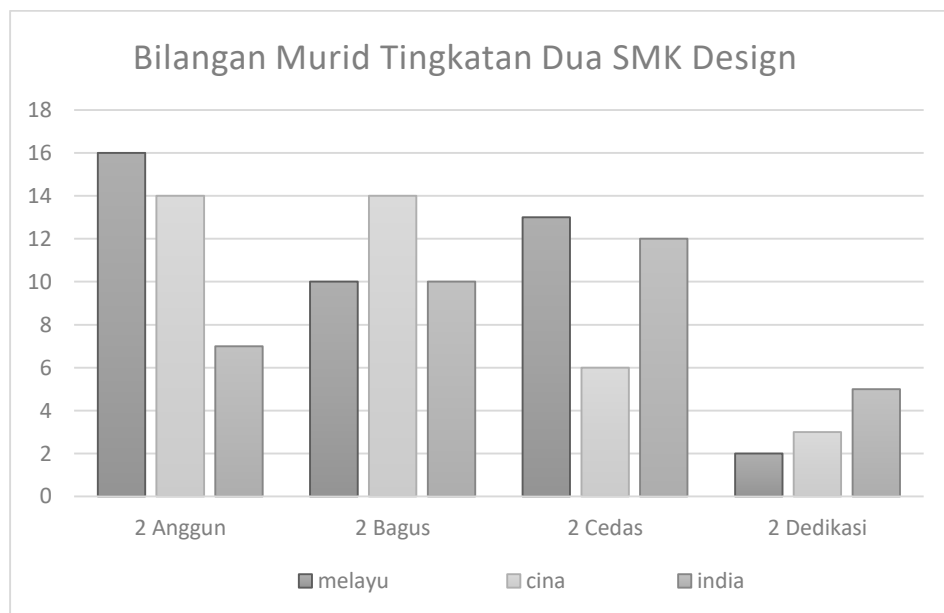
F. \_\_\_\_\_

G. \_\_\_\_\_

H. \_\_\_\_\_

5. Dua sentimeter bagi skala lurus di atas mewakili
- A. 1 kilometer
  - B. 2 kilometer
  - C. 4 kilometer**
  - D. 6 kilometer

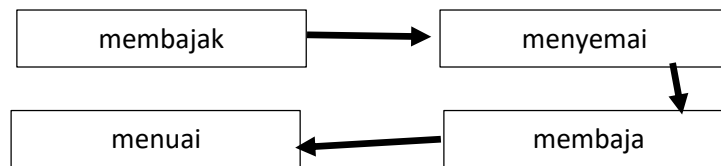
Soalan 6 dan 7 berdasarkan graf di bawah.



6. Di kelas manakah terdapat pelajar Melayu lebih ramai daripada pelajar bangsa lain?
- A. Tingkatan 2 Anggun dan 2 Cedas**
  - B. Tingkatan 2 Bagus dan 2 Cedas
  - C. Tingkatan 2 Cedas dan 2 Dedikasi
  - D. Tingkatan 2 Dedikasi dan 2 Bagus
7. Di kelas manakah pelajar India lebih ramai daripada pelajar Cina dan Melayu?
- A. Tingkatan 2 Anggun
  - B. Tingkatan 2 Bagus
  - C. Tingkatan 2 Cedas
  - D. Tingkatan 2 Dedikasi**
8. Apakah rajah yang memberikan penerangan berkenaan sesuatu proses penanaman padi?
- A. Peta
  - B. Petunjuk

- C. Rajah kitaran
- D. Gambar tunggal

Soalan 9 berdasarkan rajah di bawah



9. Rajah di atas menerangkan proses
- A. Penenunan kain
  - B. Penanaman padi**
  - C. Penanaman getah
  - D. Penanaman kelapa sawit
10. Apakah peta pelancongan?
- A. Peta kejadian lepas
  - B. Peta kawasan tanah pamah sahaja
  - C. Peta bergambar berunsur ciri geografi**
  - D. Peta lakar yang mengandungi pola petempatan
11. Ciri budaya yang manakah mudah diperolehi melalui peta pelancongan di pinggir laut?
- A. Pokok koko
  - B. Pokok kelapa**
  - C. Pokok tebu
  - D. Pokok kelapa sawit
12. Bandar manakah yang mempunyai penduduk yang paling padat?
- A. Kuantan
  - B. Kelantan
  - C. Johor Bahru
  - D. Kuala Lumpur**
- Kawasan yang subur
  - Tumpuan penduduk
13. Maklumat di atas berkaitan dengan kawasan berpenduduk padat terdiri daripada golongan?
- A. Petani**
  - B. Warga asing
  - C. Setinggan
  - D. Kakitangan kerajaan

14. Apakah faktor yang menyebabkan kadar kematian bayi yang semakin menurun di Malaysia?
- A. Jangka hayat menurun
  - B. Penduduk berkurangan
  - C. Pertumbuhan penduduk negatif
  - D. Taraf kehidupan yang semakin meningkat.**
15. Migasi luar bandar ke bandar yang sering melibatkan golongan remaja lepasan sekolah kerana faktor tolakan seperti
- A. Bencana alam
  - B. Kekurangan makanan
  - C. Kekurangan kenderaan
  - D. Kekurangan pekerjaan di tempat asal**
16. Pencemaran udara yang berlaku di pusat bandar kerana
- i. Asap kilang
  - ii. Kekurangan makanan
  - iii. Penebangan hutan semula jadi
  - iv. Pertambahan bilangan kenderaan
- A. I dan II
  - B. II dan IV
  - C. III dan IV
  - D. I dan IV**
17. Apakah kaedah yang sesuai untuk mengurangkan kesesakan lalu lintas?
- A. Menaik taraf perhentian teksi
  - B. Mengurangkan harga minyak petroleum
  - C. Memberikan peluang pekerjaan
  - D. Menyediakan kemudahan pengangkutan awam**
18. Yang manakah sistem perhubungan paling awal di Malaysia?
- A. Radio
  - B. Telefon**
  - C. Perkhidmatan pejabat pos
  - D. Kemudahan internet
19. Kepentingan jalan air di Sabah dan Sarawak pada masa dahulu dipengaruhi oleh
- A. Kehidupan yang mewah
  - B. Jalan yang selamat dan baik
  - C. Keadaan muka bumi**
  - D. Keadaan pinggir laut

20. Jaringan pengangkutan darat yang padat dipengaruhi oleh

- A. **Kepadatan penduduk**
- B. Penebangan hutan
- C. Ramainya pedatang asing
- D. Keunikan

Isikan pilihan jawapan anda di ruangan yang di sediakan di bawah.

<b>1</b>	C					<b>11</b>	B			
<b>2</b>	A					<b>12</b>	D			
<b>3</b>	B					<b>13</b>	A			
<b>4</b>						<b>14</b>	D			
<b>5</b>	C					<b>15</b>	D			
<b>6</b>	A					<b>16</b>	D			
<b>7</b>	D					<b>17</b>	D			
<b>8</b>	C					<b>18</b>	B			
<b>9</b>	B					<b>19</b>	C			
<b>10</b>	C					<b>20</b>	A			

(20 markah)

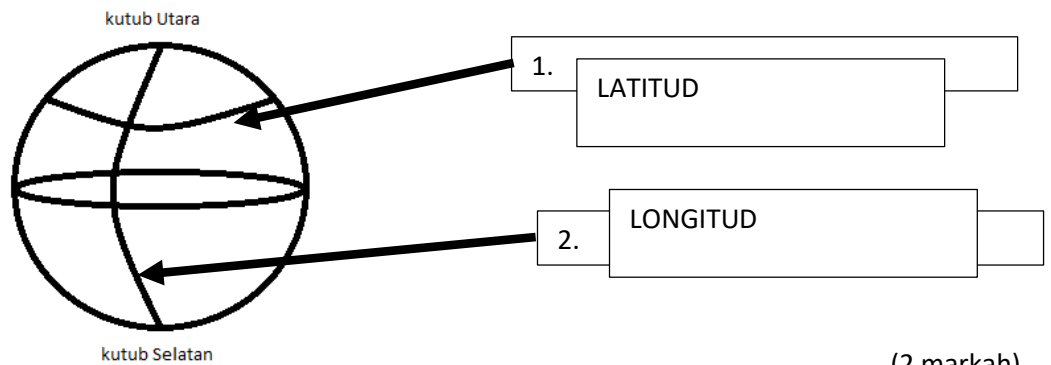
## BAHAGIAN B

denai	pedalaman	Pelabuhan	Gajah	Pelabuhan Klang
Kereta lembu	Pelabuhan Pulau Pinang	Sungai	Bot	Kuala Sepetang
Negeri selat	radio	Pulau pinang	beduk	telefon

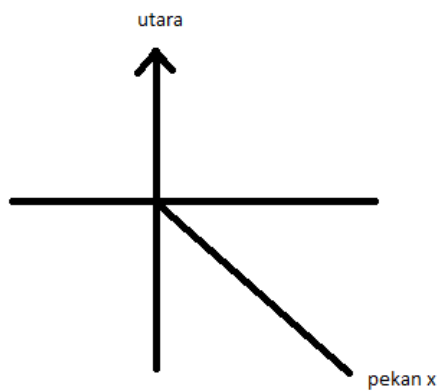
1. Sistem pengangkutan awal di Malaysia menggunakan \_\_DENAI\_\_ dan jalan tanah merah di darat.
2. Jalan denai penting bagi kegunaan masyarakat yang tinggal di kawasan PEDALAMAN\_\_.
3. Penggunaan lorong jalan kaki menggunakan \_\_\_\_\_KERETA LEMBU\_\_ dan \_\_\_GAJAH\_\_\_ untuk mengangkut padi, sayur-sayuran, rotan, damar dan buah-buahan.
4. Jalan air yang utama ialah melalui sungai dengan menggunakan \_\_BOT\_\_ dan perahu bagi mengangkut penumpang.
5. Ketuk-ketuk dan \_\_\_\_\_BEDUK\_\_\_\_\_ di gunakan oleh sesetengah masyarakat untuk memberitahu tentang kematian, waktu sembahyang, hari keramaian dan lain-lain.
6. Pengangkutan zaman penjajah yang diberi tumpuan adalah melalui \_\_\_PELABUHAN\_\_, jalan raya , jalan kereta api dan \_\_\_SUNGAI\_\_\_.
7. Pelabuhan awal yang menggerakkan sistem ekonomi zaman lampau ialah \_\_\_P. KLANG\_\_\_\_ , \_\_P. PULAU PINANG\_\_\_ dan \_\_\_\_\_KUALA SEPETANG\_\_\_\_\_ .
8. Perkhidmatan \_\_RADIO\_\_ dan telephone ialah alat komunikasi yang awal.
9. Pada tahun 1862 telah dibina perkhidmatan pos yang pertama untuk \_\_\_\_\_NEGERI SELAT\_\_\_\_. Pada tahun 1886 diadakan perkhidmatan \_\_\_TELEFON\_\_\_.
10. Tahun 1942 terdapat stesen radio yang pertama di \_\_\_P.PINANG\_\_\_\_\_.

(15 markah )

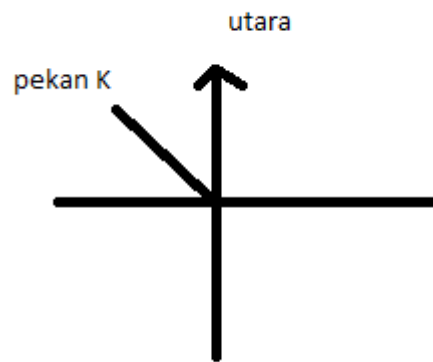
A. berdasarkan glob di bawah, namakan garisan **latitud** dan **longitud** pada ruangan yang disediakan.



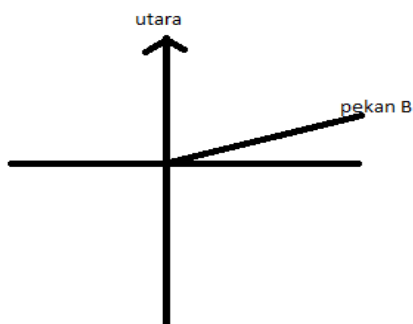
B. Berdasarkan rajah dibawah, cari bearing sudutan tempat-tempat yang dinyatakan.



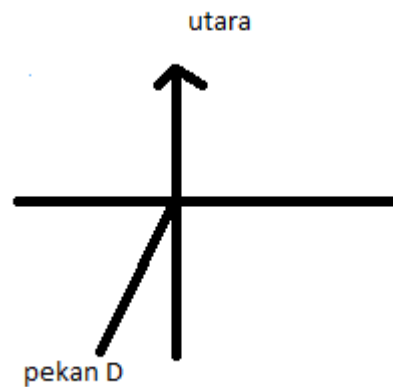
1. Bearing pekan X ialah :



2. Bearing pekan K ialah :



3. Bearing pekan B ialah :



4. Bearing pekan D ialah :

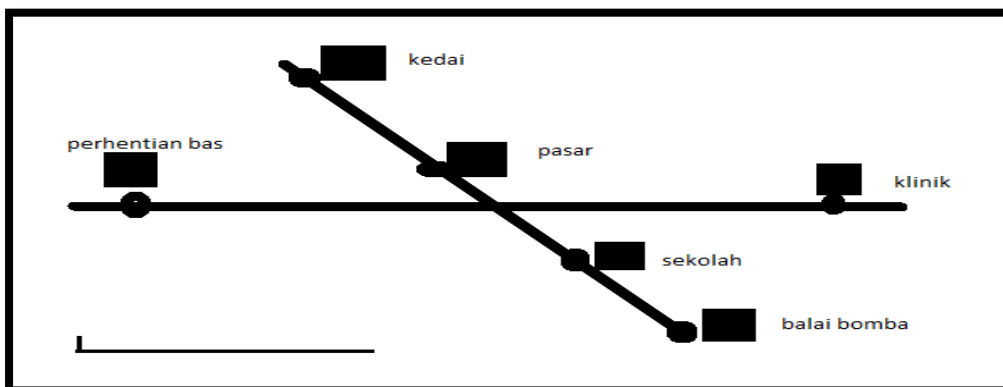
C. Lukiskan skala lurus berdasarkan soalan di bawah.

(4 markah)

	Skala perkataan	Skala lurus
(1)	1 cm di atas peta bersamaan dengan 1 km di bumi	
(2)	1 cm di atas peta bersamaan dengan 2 km di bumi	
(3)	1 cm di atas peta bersamaan dengan 5 km di bumi	
(4)	2 cm di atas peta bersamaan dengan 4 km di bumi	

D. Kira jarak lurus di tempat yang berikut.

(4 markah)



	Tempat	Jarak di muka bumi
(a)	Jarak dari pasar ke kedai	
(b)	Jarak dari sekolah ke pasar	
(c)	Jarak dari pasar ke perhentian bas	
(d)	Jarak dari pasar ke balai bomba	
(e)	Jarak dari sekolah ke klinik	

(5 markah)