

Ujian Bulan Mac

Nama :






Dunia Sains dan Teknologi Tahun 3

Markah :

Nyatakan **tiga** Kemahiran Proses Sains (KPS)

1.
2.
3.

4. Jadual di bawah menunjukkan masa yang diambil untuk sebatang lilin menyala.



Masa (minit)	0	10	20	30	40
Panjang lilin (cm)	30 →	27 →	24 →	21 →
					

a) Ramalkan panjang lilin pada minit ke-**40**

.....

b) Saya telah menjalankan kemahiran proses sains.....

5. Berikan inferens (**sebab**) ke atas pemerhatian kamu bagi gambar dibawah.

	<p>.....</p> <p>.....</p> <p>.....</p>
	<p>.....</p> <p>.....</p> <p>.....</p>

- Menggunakan dan mengendalikan peralatan sains dengan betul
- Mengendalikan spesimen dengan betul dan selamat
- Melakarkan spesimen dengan tepat
- Membersihkan peralatan sains dengan betul
- Menyimpan peralatan sains dengan betul dan selamat.