


Bahagian A.

Arahan : Bulatkan jawapan yang betul.

1. Rajah 1 menunjukkan panjang sebatang pensel yang diukur menggunakan skru. Berapakah bilangan skru bagi 1 batang pensel itu?




Rajah 1

- A 6 batang skru
- B 8 batang skru
- C 10 batang skru

2. Makanan yang manakah paling baik untuk menjaga kesihatan gigi ?

A



B



C



3. Apakah faedah jika kita berkumur setiap kali selepas makan ?

- A Menguatkan gigi
- B Membunuh bakteria
- C Membersihkan mulut

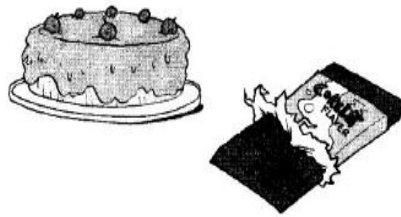
4. Apakah yang akan berlaku jika kita menggosok gigi setiap hari ?

- A Gigi kelihatan hitam
- B Mulut berbau busuk
- C Gigi menjadi bersih

5. Ramzol ingin mengetahui sama ada sesuatu objek itu kasar atau licin. Apakah deria yang harus digunakannya?

- A Deria bau
- B Deria rasa
- C Deria dengar

6. Rajah 2 di bawah menunjukkan dua jenis makanan.



Rajah 4

Makanan di atas_____.




- A merosakkan gigi
- B membesarkan gigi
- C menguatkan gigi

BAHAGIAN B :

Arahan : Nyatakan sama ada perkakasan computer berikut boleh berfungsi atau tidak. Isi tempat kosong dengan jawapan yang betul.

berfungsi

tidak berfungsi



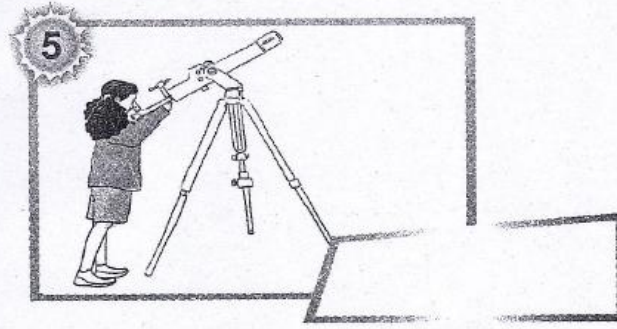


<p>1.</p> 	<p>Wayar skrin di sambung dengan sempurna. Skrin memaparkan imej yang jelas.</p> <p>Skrin monitor</p>
<p>2.</p> 	<p>Plag kuasa komputer tidak disambung pada suis.</p> <p>Komputer</p>
<p>3.</p> 	<p>Wayar tetikus tidak disambungkan pada port yang betul.</p> <p>Tetikus</p>

(3 markah)

BAHAGIAN C :

Tuliskan deria yang digunakan untuk setiap aktiviti di bawah.


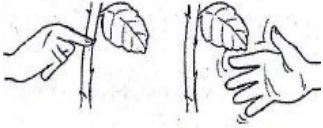



Deria penglihatan	Deria Pendengaran	Deria Sentuh	Deria rasa	Deria bau
-------------------	-------------------	--------------	------------	-----------



(8 markah)

BAHAGIAN D - (B3 D1 E1)

Arahan : Tandakan (/) pada pernyataan yang menunjukkan pemerhatian

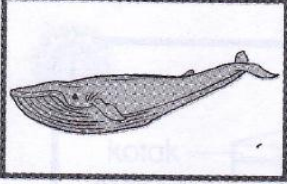







<p>1.</p>  <p>A B</p>	<p>a) Lembu B lebih besar dari lembu A <input type="radio"/></p> <p>b) Lembu B melahirkan anak <input type="radio"/></p>
<p>2.</p> 	<p>c) Duri pokok itu tajam <input type="radio"/></p> <p>d) Pokok disiram air setiap hari <input type="radio"/></p>
<p>3.</p>  <p>A B</p>	<p>e) Buah A masam tetapi buah B pahit. <input type="radio"/></p> <p>f) Buah A masam tetapi buah B manis <input type="radio"/></p>
<p>4.</p> 	<p>g) Lembu suka memakan rumput <input type="radio"/></p> <p>h) Bunyi hon kereta itu kuat <input type="radio"/></p>
<p>5.</p> 	<p>i) Makanan itu dihurungi lalat. <input type="radio"/></p> <p>j) Makanan itu sangat sedap. <input type="radio"/></p>

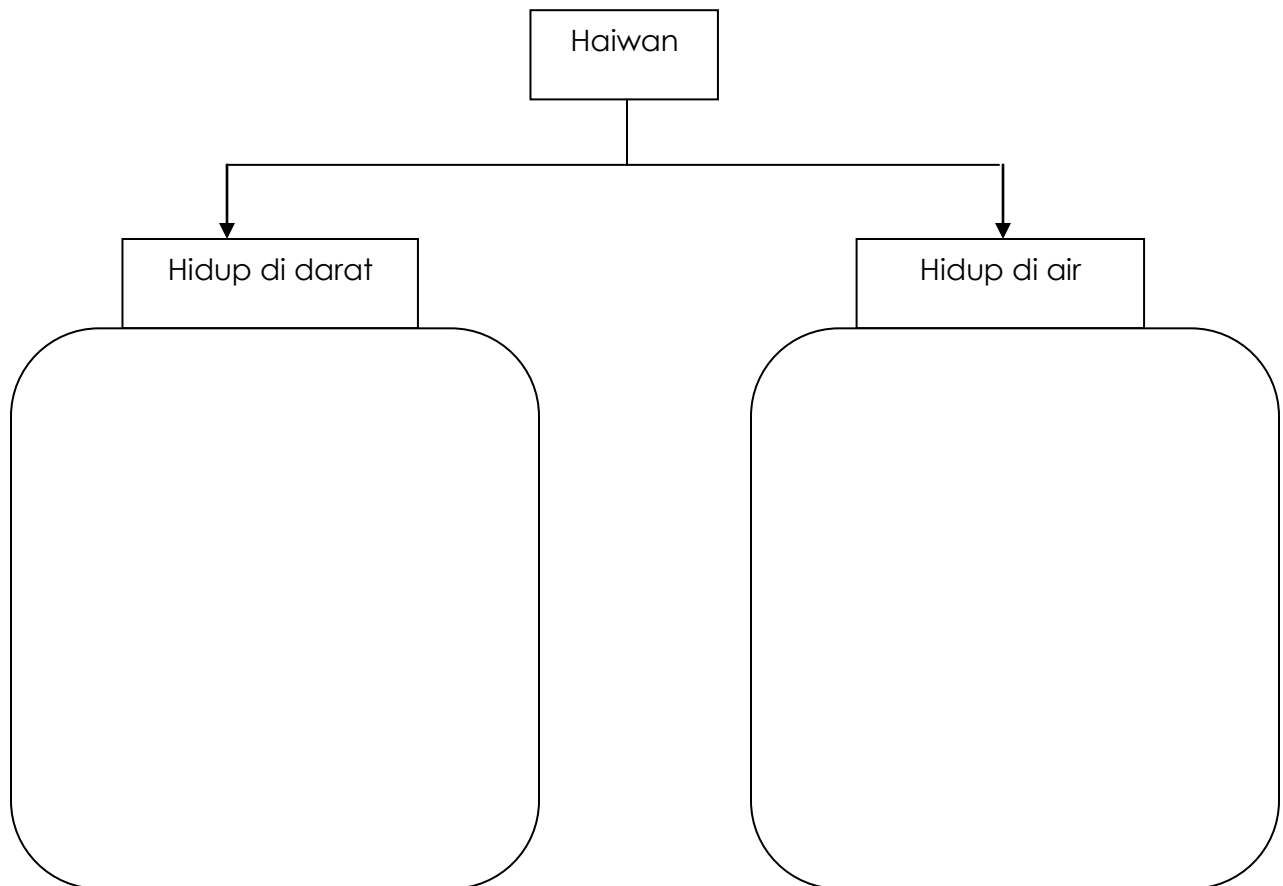
--	--

(5 markah)

BAHAGIAN E – (B2 D1 E1)

Arahan : Kelaskan haiwan di bawah ke dalam kumpulan yang betul .

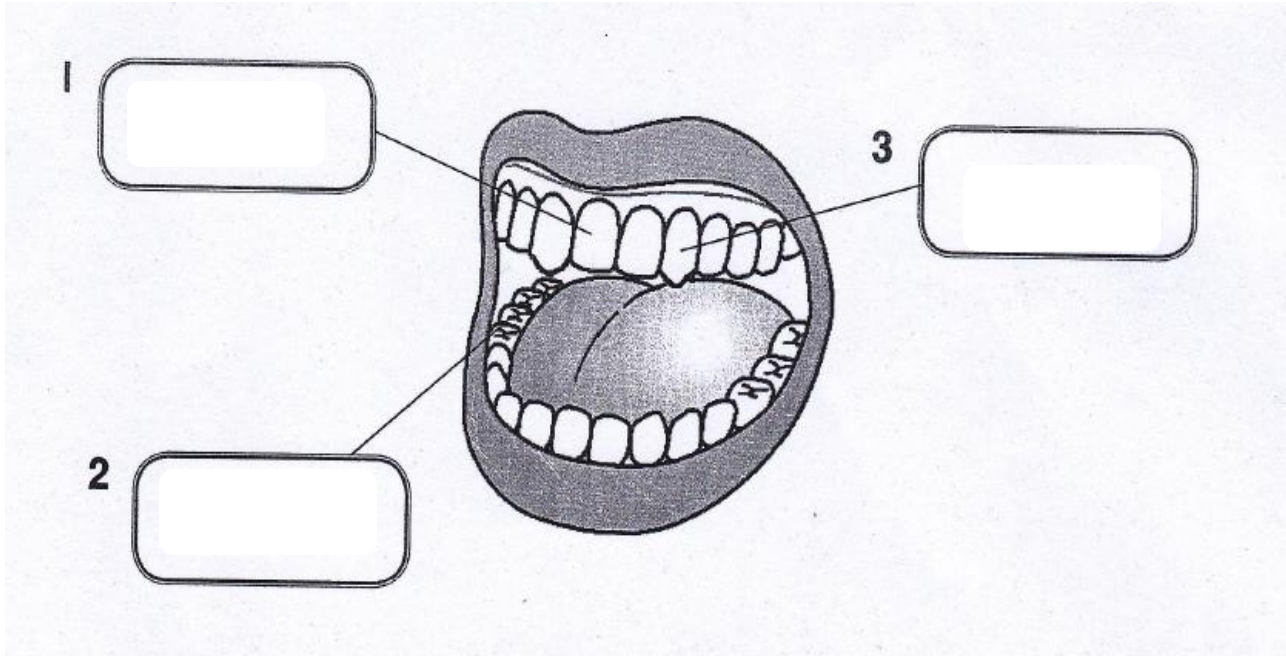
			
Ikan paus	Rama-rama	Ikan emas	Udang
			
Tapir	Monyet	Itik	Ikan lumba-lumba



(8 markah)

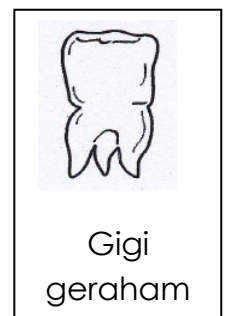
BAHAGIAN F – (B2 D1 E1)

Arahan : Namakan jenis gigi dengan betul.



(3 markah)

Arahan : Padankan jenis gigi dan fungsi gigi



Mengoyak
dan menyiat
makanan

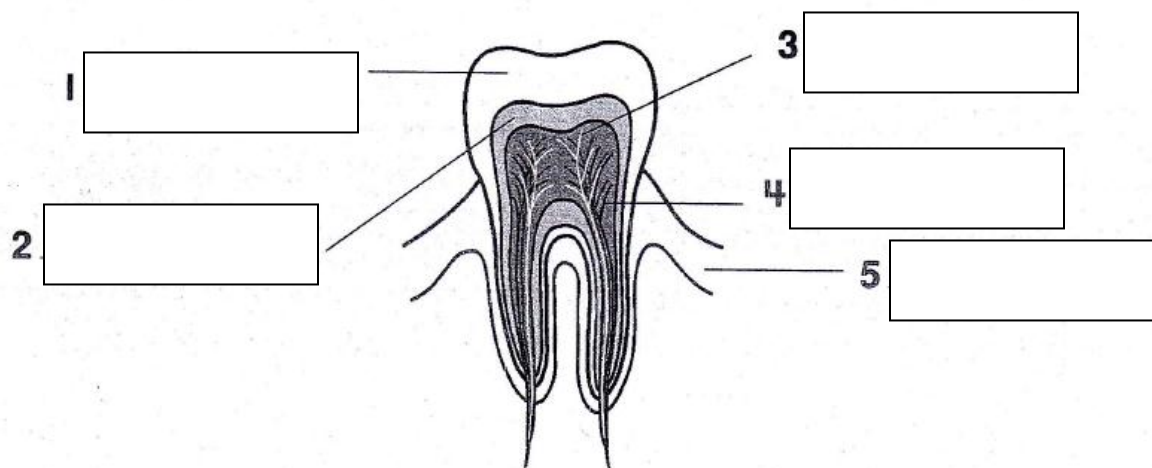
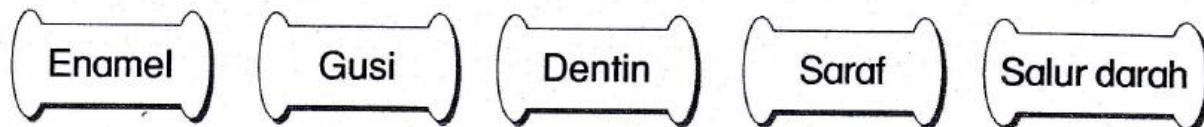
Memotong
makanan

Memecah
dan
melumatkan
makanan

Bahagian G (B3 DS 3 E2)

(3 markah)





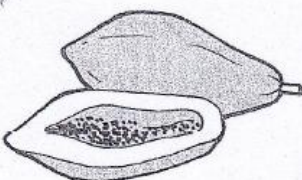




Arahan : Namakan struktur gigi yang ditunjukkan dalam rajah di bawah dengan perkataan yang diberi.



(5 markah)

BAHAGIAN G :- (B6 D2 E1)

Tandakan (/) bagi makanan yang baik untuk kesihatan gigi dan (X) bagi makanan yang kurang baik untuk kesihatan gigi.

<p>1</p>  <p><input type="checkbox"/></p>	<p>2</p>  <p><input type="checkbox"/></p>	<p>3</p>  <p><input type="checkbox"/></p>
<p>4</p>  <p><input type="checkbox"/></p>	<p>5</p>  <p><input type="checkbox"/></p>	<p>6</p>  <p><input type="checkbox"/></p>
<p>7</p>  <p><input type="checkbox"/></p>	<p>8</p>  <p><input type="checkbox"/></p>	<p>9</p>  <p><input type="checkbox"/></p>

(9 markah)

