

B Nyatakan jenis gigi dan fungsinya berdasarkan gambar di bawah.

gigi kacip

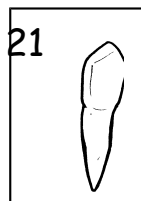

gigi geraham

memecah dan melumatkan makanan

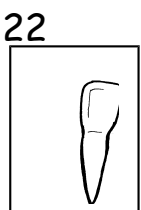
gigi taring

menyiat makanan

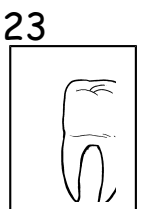

memotong makanan



Fungsi \_\_\_\_\_  
adalah untuk \_\_\_\_\_



Fungsi \_\_\_\_\_  
adalah untuk \_\_\_\_\_



Fungsi \_\_\_\_\_  
adalah untuk \_\_\_\_\_

(12 markah)

C Isi tempat kosong dengan jawapan yang betul.

herbivor

tumbuhan sahaja


karnivor

haiwan lain sahaja

omnivor

tumbuhan dan haiwan lain

24



Haiwan:

---

Makanan:

---



26

Haiwan:

---

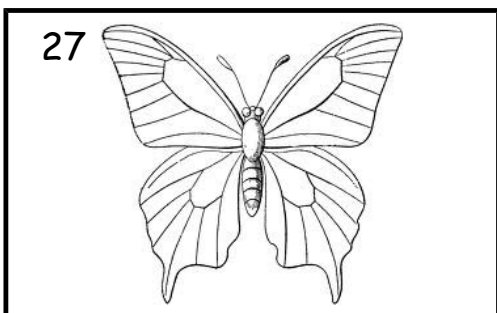
Makanan:

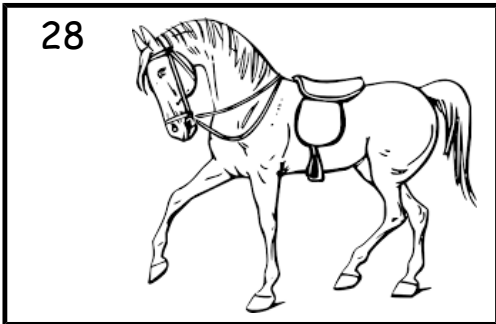
---

(12 markah)


D Padankan haiwan berikut dengan caranya membiak.

27

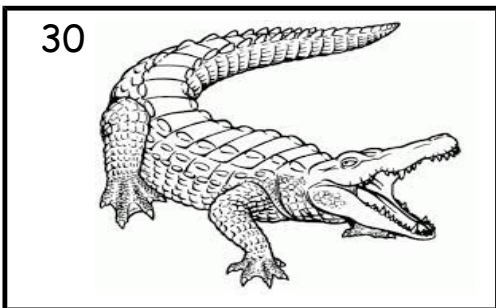




Bertelur





Melahirkan anak



(8 markah)


E Tandakan (  $\checkmark$  ) bagi tumbuhan berbuah dan ( X ) bagi yang tidak berbuah.

31






33



Teratai



Paku langsuir



35


36



Pokok jagung



Pokok kelapa



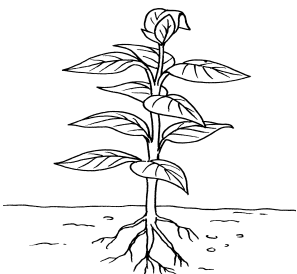
(12 markah)

F Tulis jenis akar bagi tumbuhan berikut.

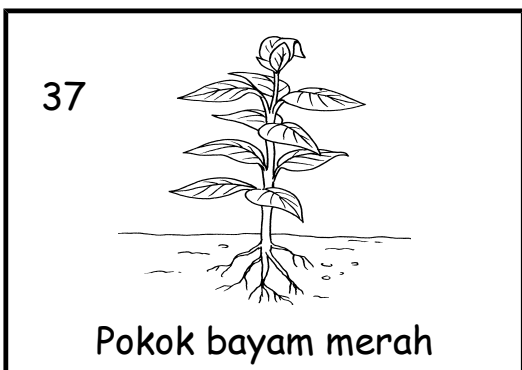
Batang berkayu

Batang tidak berkayu


37



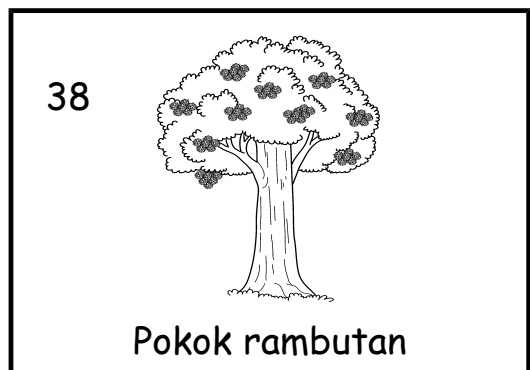
Pokok bayam merah






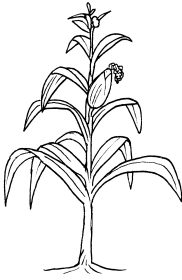
38



Pokok rambutan




39  Pokok durian
41  Pokok konifer

40  Pokok bunga seri pagi
42  Pokok jagung

(12 markah)

G Label anggota badan haiwan berikut menggunakan perkataan di dalam kotak di bawah.

Tanduk	Kaki	Ekor	Bulu
--------	------	------	------



(8 markah)

.....KERTAS SOALAN TAMAT.....

DISEDIAKAN OLEH:

DISEMAK OLEH:

DISAHKAN OLEH:

**(SAID ALI BIN SHAHIRUL)  
BINTI MOHD YUSOF)**

**(NAJIB BIN SULAIMAN)**

**(NOR LAILY**

PENGGUBAL SOALAN  
SAINS TAHUN 3

KETUA PANITIA  
SAINS

PK PENTADBIRAN

VERIFIKASI OLEH:

.....  
.....

GURU BESAR/ PENOLONG KANAN  
IBU/BAPA/PENJAGA  
SK SEAFIELD 3

TANDATANGAN

TARIKH: .....  
.....

TARIKH: