

**PENTAKSIRAN AKHIR TAHUN 2018
TAHUN 4**

Nama : Tahun :

SEJARAH

Satu Jam

JANGAN BUKA KERTAS SOALAN INI SEHINGGA DIBERITAHU

ARAHAN

1. Kertas ini mengandungi **5** bahagian,
2. Jawab **semua** soalan di dalam kertas soalan ini.
3. Jika kamu hendak menukar jawapan, padamkan tanda yang telah dibuat. Kemudian tuliskan jawapan yang baru.


Untuk Kegunaan Pemeriksa		
Bahagian	Markah	Markah Diperoleh
A	30	
B	5	
C	7	
D	5	
E	3	
Jumlah	50	X 2
Markah Keseluruhan		%

Kertas soalan ini mengandungi 12 halaman bercetak.

Bahagian A

Bahagian ini mengandungi **30 soalan objektif**. Tiap-tiap soalan diikuti oleh empat pilihan jawapan, iaitu **A, B, C** dan **D**. Bulatkan **SATU** sahaja jawapan yang betul.

1. Kamus Dewan mentakrifkan sejarah sebagai _____.
A. Peristiwa yang berlaku dengan bukti-bukti sejarah.
B. Tindakan manusia dan sebab mereka melakukannya.
C. Peristiwa yang benar-benar berlaku pada masa lampau.
D. Cerita dan perbuatan manusia yang berlaku dalam masyarakat.



Sejarah ialah tindakan manusia dan sebab-sebab yang dilakukan oleh mereka


2. Pernyataan di atas merupakan pendapat seorang tokoh sejarawan. Siapakah tokoh tersebut?
A. Socrates
B. Herodotus
C. Ibn Khaldun
D. Tunku Abdul Rahman
3. Para sejarawan mengkaji sejarah menggunakan tiga kaedah utama
 iaitu I. kaedah lisan
 II. kaedah bertulis III.
 kaedah arkeologi
 IV. kaedah pembacaan
A. I, II dan III
B. I, II dan IV
C. I, III dan IV
D. II, III dan IV
4. Kerajaan British memberikan kemerdekaan kepada Persekutuan Tanah Melayu pada _____.
A. 31 Ogos 1955
B. 31 Ogos 1957
C. 13 Ogos 1985
D. 23 Ogos 1957

5. Sijil kelahiran merupakan _____
- sijil khas untuk bayi yang baru lahir.
 - sijil penghargaan yang mengandungi maklumat diri seseorang.
 - sijil rasmi yang mengandungi keterangan mengenai butir-butir kelahiran.
 - maklumat ringkas diri seseorang yang mengandungi nama dan jantina.
6. Apakah panggilan bapa dan ibu mengikut suku kaum Iban?

	Bapa	Ibu
A.	Ba ba	Ma ma
B.	Apai	Indai
C.	Appa	Amma
D.	Ayah	Ibu

7. _____ bertanggungjawab menguruskan hal berkaitan program akademik sekolah.
- Guru Besar
 - Guru Penolong Kanan Pentadbiran
 - Guru Penolong Kanan Hal Ehwal Murid
 - Guru Penolong Kanan Ko-Kurikulum

Soalan 8 berdasarkan pernyataan berikut.

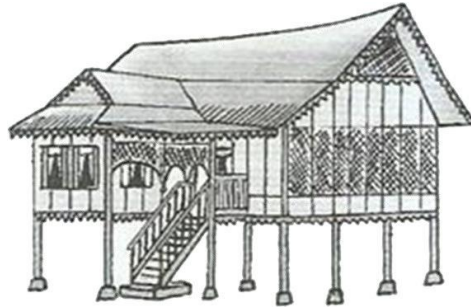


Hisham layak menerima Rancangan Makanan Tambahan tetapi dia tidak terpilih. Siapakah sepatutnya yang dirujuk Hisham?

8. Berdasarkan pernyataan, siapakah yang sepatutnya dirujuk Hisham bagi membantu situasi yang dihadapinya?
- Guru Besar
 - Guru Penolong Kanan Pentadbiran
 - Guru Penolong Kanan Hal Ehwal Murid
 - Guru Penolong Kanan Ko-Kurikulum

9. Alamat yang lengkap memudahkan kita _____.
- menziarahi saudara mara
 - mengesan tuan rumah dengan pantas
 - menghantar hadiah hari lahir kepada rakan
 - mengenalpasti lokasi sesebuah rumah dan tempat

Soalan 10 berdasarkan gambar berikut.



10. Rumah Kutai merupakan rumah tradisional orang Melayu di _____.
- Perak
 - Johor
 - Melaka
 - Negeri Sembilan

Soalan 11 berdasarkan pernyataan berikut

X
ialah timbunan besar ais yang bergerak perlahan-lahan menuruni cerun dan merebak ke permukaan laut

11. X dalam pernyataan di atas merujuk kepada _____.
- benua
 - daratan
 - glasier
 - lautan
12. Benua dan lautan terbentuk apabila _____.
- Air batu mulai cair
 - Air batu menutupi bumi
 - Suhu bumi menurun dan hujan lebat
 - Suhu bumi meningkat dan berlaku pergerakan glasier kali kedua

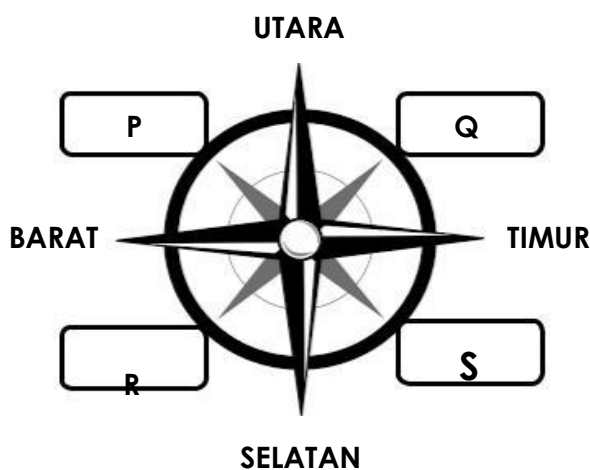
13. Antara berikut, yang manakah termasuk dalam Kepulauan Melayu?
- I. Siam
II. Sulawesi
III. Selat Melaka IV.
Tanah Melayu
- A. I, II dan III
B. I, II dan IV
C. I, III dan IV
D. II, III dan IV
14. Zaman Pra Sejarah ditakrifkan sebagai _____.
- A. Zaman sebelum masihi.
B. Zaman manusia belum mempunyai tulisan.
C. Zaman dimana manusia tinggal dalam gua.
D. Zaman manusia menggunakan kaedah carigali.
15. Berikut merupakan ciri-ciri manusia pada zaman Paleolitik **KECUALI** _____.
- A. tinggal dalam gua.
B. berpindah randah.
C. memburu binatang.
D. senjata lebih halus buatannya.
16. Zaman Mesolitik berlaku antara zaman _____ dan zaman _____.
- A. Paleolitik dan Neolitik
B. Neolitik dan Logam
C. Logam dan Paleolitik
D. Pra sejarah dan Logam
17. Apakah bukti yang menunjukkan manusia pada zaman Neolitik lebih maju daripada zaman sebelumnya?
- A. Senjata lebih halus.
B. Tahu mengebumikan mayat.
C. Merupakan zaman batu akhir.
D. Menjalankan perdagangan sistem barter.

18. Manakah antara berikut merupakan alat yang dicipta pada zaman Logam?

- I. Sabit
- II. Kapak
- III. Mata lembing IV.
- Tembikar tanah

- A. I, II dan III
- B. I, II dan IV
- C. I, III dan IV
- D. II, III dan IV

Soalan 19 berdasarkan rajah berikut.



19. Antara P, Q, R dan S, yang manakah menunjukkan arah mata angin Barat Daya?

- A. P
- B. Q
- C. R
- D. S

20. Kerajaan Melayu awal yang terletak di persisiran pantai dikenali juga sebagai _____.

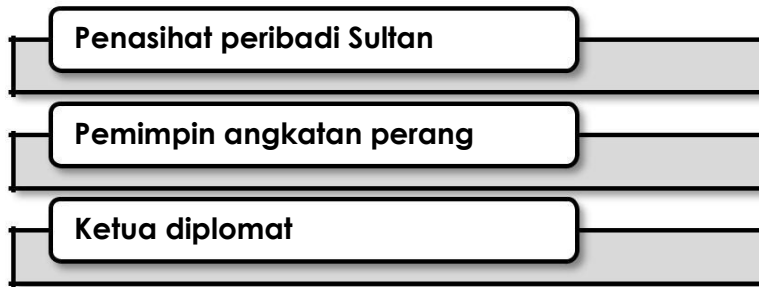
- A. Kerajaan Maritim
- B. Kerajaan Kedah Tua
- C. Kerajaan Santubong
- D. Kerajaan Gangga Negara

21. Yang manakah antara berikut **BUKAN** ciri tokoh terbilang?

- A. Disegani
- B. Berwibawa
- C. Boleh dicontohi
- D. Mementingkan diri.

22. _____ berada di atas puncak susun lapis masyarakat pada zaman Kesultanan Melayu Melaka .
- | | |
|--------------|---------------|
| A. Sultan | C. Temenggung |
| B. Bendahara | D. Laksamana |

Soalan 23 berdasarkan pernyataan yang diberi.



23. Ciri-ciri di atas menunjukkan peranan seorang _____ pada zaman Kesultanan Melayu Melaka.
- | | |
|--------------|---------------|
| A. Sultan | C. Temenggung |
| B. Bendahara | D. Laksamana |
24. Menurut sumber China dan Portugis, siapakah merupakan pengasas Kesultanan Melayu Melaka?
- | | |
|----------------|-------------------------|
| A. Temagi | C. Penghulu Bendahari |
| B. Parameswara | D. Sultan Iskandar Syah |

Soalan 25 berdasarkan pernyataan berikut.

Parameswara mendapati Temasik berkembang maju dan ingin menjadi pemerintah disitu.

25. Apakah peristiwa yang berlaku selepas itu?
- | |
|--|
| A. Parameswara berundur ke Muar. |
| B. Parameswara tiba di Sungai Bertam. |
| C. Parameswara telah menyerang Temagi |
| D. Parameswara menyelamatkan diri dari serangan Majapahit. |

Soalan 26 berdasarkan pernyataan yang diberi.



Tokoh Y

- Memegang jawatan Bendahara Melaka.
- Berperanan memperluaskan Kesultanan Melayu Melaka.
- Telah berkhidmat dibawah empat orang Sultan

26. Siapakah **Tokoh Y** yang dimaksudkan dalam pernyataan di atas?
- | | |
|-------------|-------------------|
| A. Tun Ali | C. Tun Perak |
| B. Tun Kudu | D. Tun Sri Lanang |
27. Apakah strategi Tun Perak dalam menangkis serangan Siam kali kedua?
- A. Mematahkan serangan Siam.
 - B. Menggunakan teknik balas dendam.
 - C. Menyuruh Pahlawan Kelang membawa ahli keluarga pergi berperang.
 - D. Mengupah pemuda yang gila-gila bahasa dan mengikat jamung di pantai.
28. _____ ialah Laksamana yang masyhur semasa Kesultanan Melayu Melaka.
- | | |
|---------------|-----------------|
| A. Hang Tuah | C. Hang Jebat |
| B. Hang Lekir | D. Hang Kasturi |
29. Yang manakah **TIDAK BENAR** berkaitan peranan Hang Tuah sebagai Laksamana Melaka?
- | | |
|------------------------|------------------------------------|
| A. Pemangku Sultan | C. Pengawal peribadi Sultan |
| B. Ketua Angkatan Laut | D. Mengetuai utusan ke negara luar |
30. Nyatakan sifat Laksamana Hang Tuah yang paling menonjol semasa berkhidmat kepada Sultan Melaka.
- | | |
|--------------|------------------------------------|
| A. Berani | C. Bertanggung jawab |
| B. Bijaksana | D. Kesetiaan tidak berbelah bahagi |

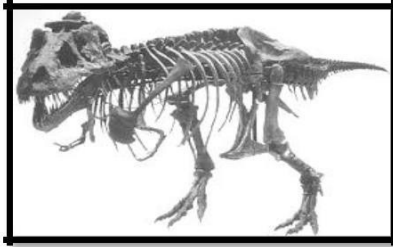
Jawab semua soalan

Bahagian B

Lihat gambar, kemudian isikan sumber sejarah yang betul dalam rajah di bawah.



Surat khabar



Fosil




Majalah



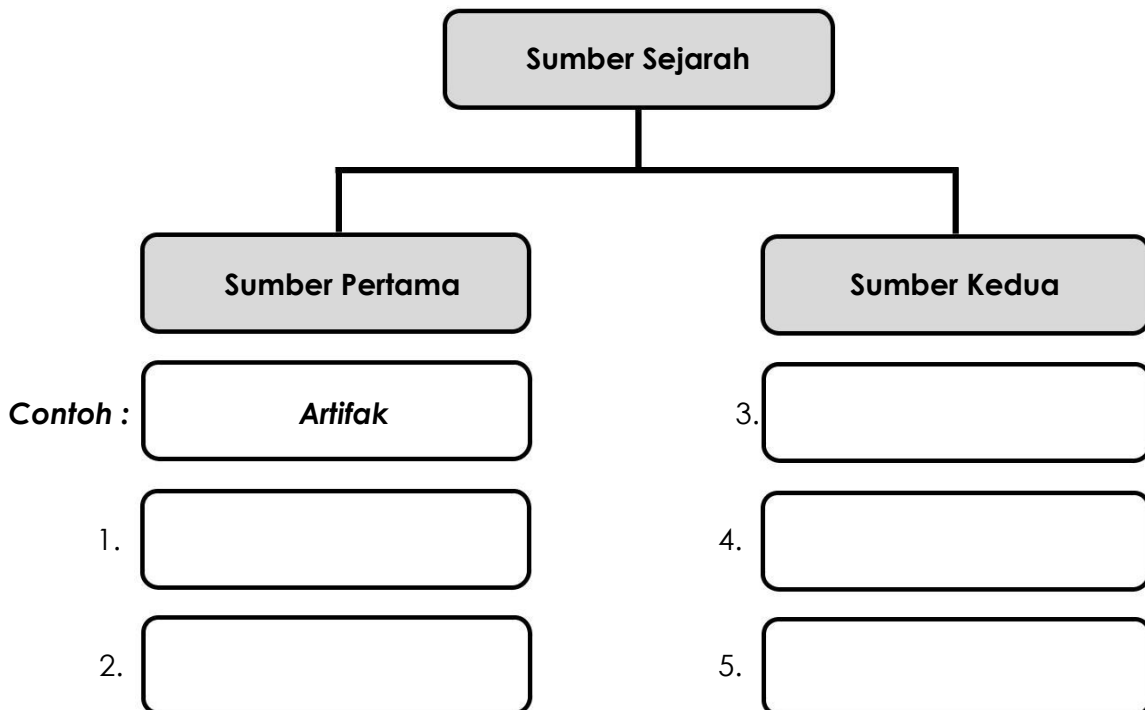
Artifak



Manuskrip



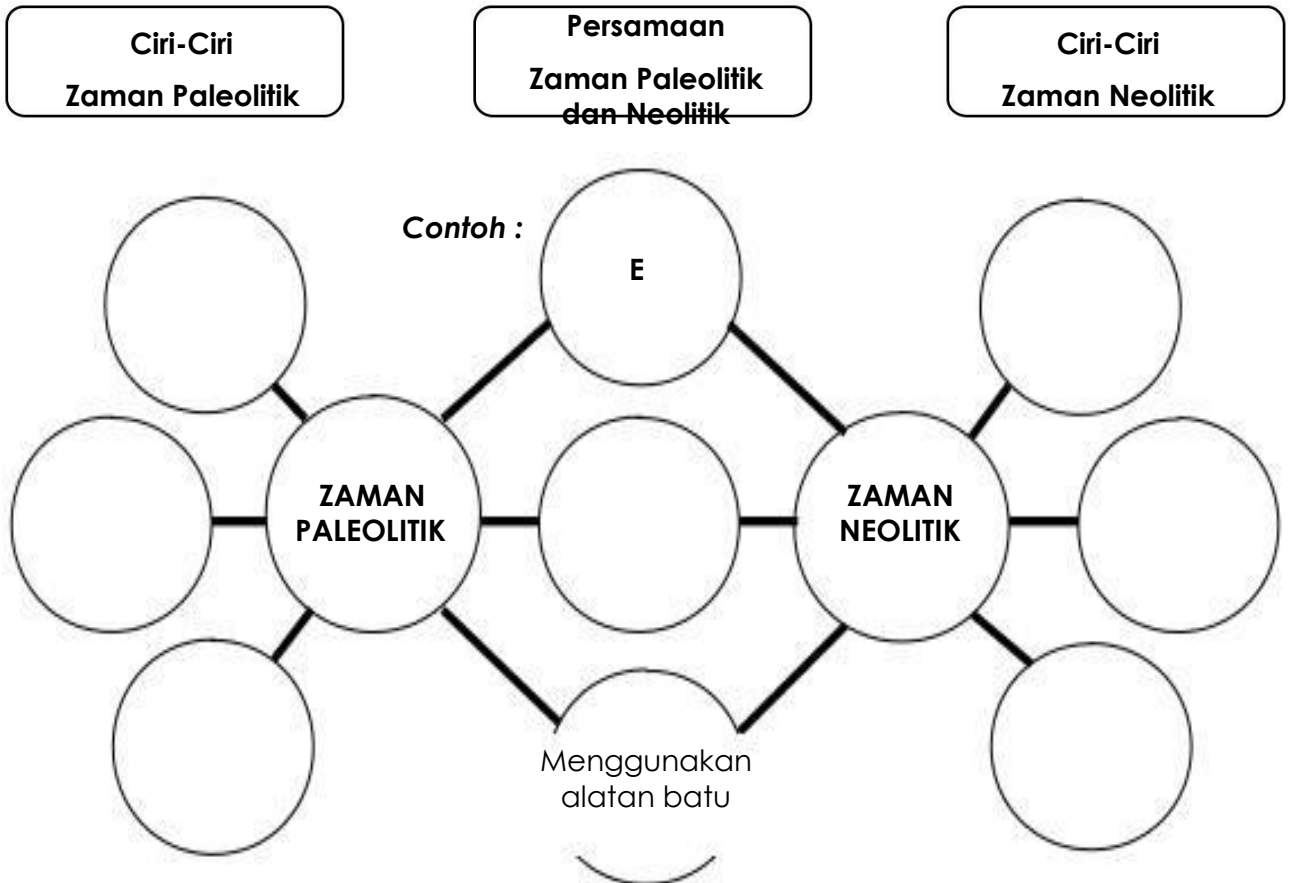
Buku



Bahagian C

Lengkapkan Peta Pemikiran Buih Berganda yang berikut dengan berdasarkan ciri-ciri manusia pada zaman Paleolitik dan Neolitik yang telah disediakan.

A	Mencari hasil hutan	E	Tahu mengebumikan mayat
B	Mempunyai ketua	F	Tinggal dalam gua
C	Sistem Barter	G	Berpindah-randah
D	Tinggal di kawasan lapang	H	Wujud 40 000 tahun dahulu



Bahagian D

Lengkapkan tempat kosong dibawah dengan nama - nama kerajaan Melayu Awal

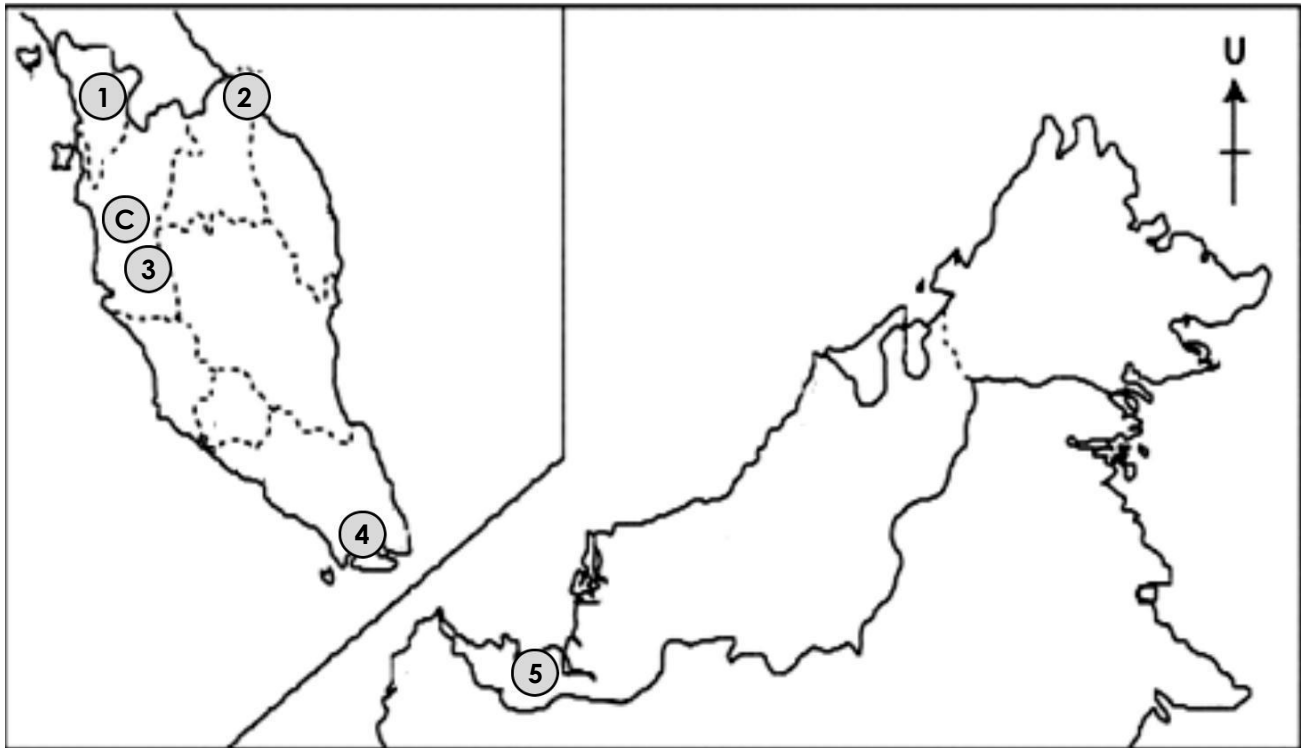
Santubong	Gangga Negara	Kedah Tua
Chih-Tu	Temasik	Beruas

Contoh :

(C) Beruas

(1)

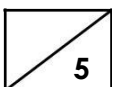
(2)



(3)

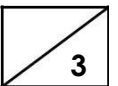
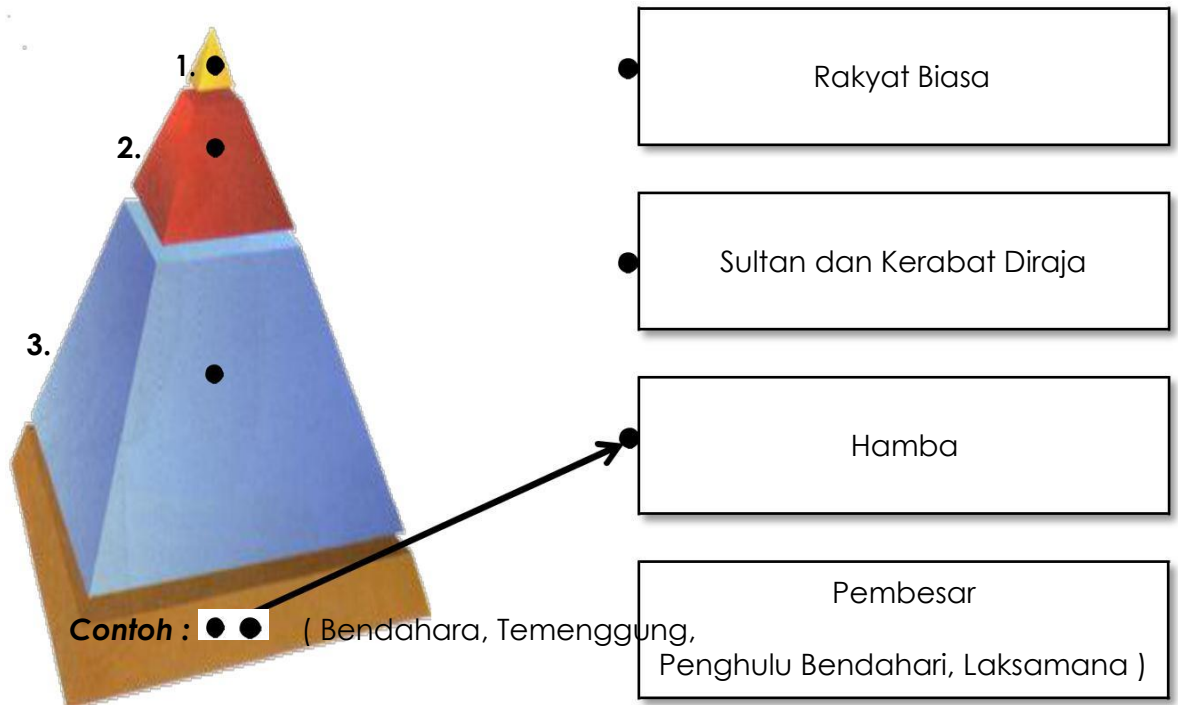
(4)

(5)



Bahagian E

Padankan susun lapis pemerintahan semasa zaman Kesultanan Melayu Melaka berikut.



SOALAN TAMAT

**SKIMA JAWAPAN
PEPERIKSAAN AKHIR TAHUN 2018
SEJARAH
TAHUN 4**

Bahagian A			
1. C		11. C	21. D
2. B		12. D	22. A
3. A		13. D	23. B
4. B		14. B	24. B
5. C		15. D	25. C
6. B		16. A	26. C
7. B		17. D	27. D
8. C		18. A	28. A
9. D		19. C	29. A
10. A		20. A	30. D
Bahagian B		Bahagian C	
1. Fosil	} Sumber Pertama	1. F	} Zaman Paleolitik
2. Manuskrip		2. G	
3. Surat khabar	} Sumber Kedua	3. H	
4. Majalah		4. A	} Persamaan
5. Buku		5. B	
		6. C	} Zaman Neolitik
		7. D	
Bahagian D		Bahagian E	
1. Kedah Tua		1. Sultan dan Kerabat Diraja	
2. Chih-Tu		2. Pembesar	
3. Gangga Negara		3. Rakyat Biasa	
4. Temasik			
5. Santubong			