

**BAHAGIAN A ( Soalan Objektif )**

Arahan: Kertas soalan **Bahagian A** berbentuk objektif dan anda dikehendaki **menjawab semua soalan** yang diberi dengan jawapan yang **tepat**.

1. Gereja ialah tempat ibadat bagi penganut beragama \_\_\_\_\_.
  - A. Hindu
  - B. Islam
  - C. Kristian
  - D. Buddha
  
2. Pada kebiasaannya ,kita menyambut sesuatu perayaan bertujuan untuk
  - A. bersuka ria
  - B. mengeratkan silaturahim
  - C. memenuhi tuntutan agama
  - D. mengingati peristiwa yang bakal berlaku
  
3. Sebagai rakyat Malaysia,kita hendaklah saling menghormati ketika perayaan agama lain diraikan supaya
  - A. kita dapat menikmati perayaan kaum lain
  - B. negara kita sentiasa aman dan damai
  - C. dapat makan makanan percuma
  - D. tanda kita sentiasa bersyukur
  
4. Antara yang berikut, yang manakah bukan cerita tempatan masyarakat Malaysia?
  - A. Puteri Santubong
  - B. Puteri Gunung Ledang
  - C. Puteri Salji dan Tujuh Orang Kerdil
  - D. Bawang Merah dan Bawang Putih
  
5. Antara yang berikut, yang manakah ibu negeri Perak?
  - A. Ipoh
  - B. Kuala Kangsar
  - C. Taiping
  - D. Teluk Intan

**Soalan 6** berdasarkan rajah di bawah.



6. Gambar di atas merupakan satu amalan ketika merayakan Tahun Baru Cina . Apakah amalan tersebut?
- Membuat kolam
  - Tradisi makan besar
  - Tradisi minum air tapai
  - Pertandingan Kumang dan Keling

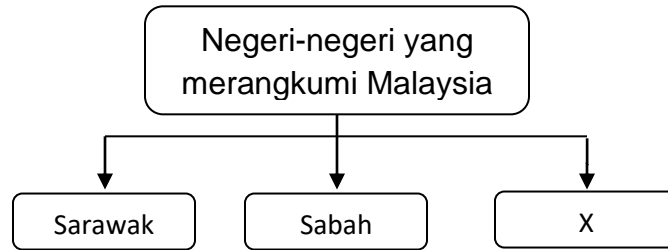
**Soalan 7** berdasarkan rajah di bawah.



7. Gambar di atas menunjukkan kad ucapan perayaan. Apakah peranan kad tersebut pada musim perayaan?
- Sebagai tanda ingatan
  - Sebagai tanda kesyukuran
  - Sebagai tanda kenangan
  - Sebagai hadiah

**Soalan 8** berdasarkan rajah di bawah.

8.



X ialah.....

- A. Filipina
  - B. Indonesia
  - C. Brunei
  - D. Persekutuan Tanah Melayu
9. Mengapakah kita perlu bersukan?
- A. Supaya kita mendapat piala
  - B. Supaya badan kita kekal sihat
  - C. Supaya kita mendapat pujian daripada guru
  - D. Supaya kita dapat berbangga dengan kawan
10. Mengapakah pihak komunis berusaha untuk mendapatkan Negeri Sarawak?
- A. Menguasai pentadbiran
  - B. Mengawal kuasa Sultan Brunei
  - C. Menguasai industri pembalakan
  - D. Menyatukan suku kaum yang ada
11. Siapakah yang telah mengharumkan nama negara dalam acara sukan skuasy?
- A. Shalin Zulkifli
  - B. Datuk Lee Chong Wei
  - C. Datuk Nicol Ann David
  - D. Pandelega Rinong Anak Pamg

12. Pahang terkenal dengan pusat peranginan tanah tinggi. Berikut merupakan tarikan yang terdapat di Cameron Highlands.

- A. Ladang teh
- B. Taman tema
- C. Hutan simpan kekal
- D. Empangan terbesar



13. Gambar di atas menunjukkan jata negeri \_\_\_\_\_.

- A. Johor
  - B. Melaka
  - C. Kelantan
  - D. Terengganu
14. Semua yang berikut adalah benar tentang kepentingan menjalinkan hubungan baik dengan negara luar kecuali.....
- A. menarik pelabur asing untuk melabur.
  - B. mewujudkan perdagangan dua hala.
  - C. Meningkatkan imej negara di mata dunia.
  - D. Memberi peluang kepada negara luar untuk memonopoli ekonomi tempatan.
15. Antara yang berikut, yang manakah merupakan gelaran bagi ketua Negeri Sembilan?
- A. Raja
  - B. Sultan
  - C. Yang di-Pertua Negeri
  - D. Yang di-Pertuan Besar

- Dirayakan oleh masyarakat Dayak di Sarawak
- Tarian Ngajat ditarikan semasa perayaan
- Menghidangkan air tuak kepada tetamu

16. Maklumat di atas adalah berkaitan dengan perayaan \_\_\_\_\_.

- A. Hari Gawai
- B. Hari Krismas
- C. Good Friday
- D. Tadau Kaamatan

17. Semua yang berikut merupakan adab ketika berada di masjid kecuali ....

- A. memakai pakaian sopan
- B. tidak membuat bising
- C. memakai kasut ketika di dalam masjid
- D. menjaga kebersihan masjid dan kawasan persekitaran

18. Antara yang berikut, yang manakah benar tentang tokoh sukan negara?

|     | Tokoh            | Acara Sukan   |
|-----|------------------|---------------|
| I   | Shalin Zulkifli  | Bola baling   |
| II  | Pandelela Rinong | Renang        |
| III | Nicol Ann David  | Skuasy        |
| IV  | Josiah Ng        | Lumba Basikal |

- A. I dan II
- B. I dan IV
- C. II dan III
- D. III dan IV

19. Antara yang berikut, sektor ekonomi yang manakah menyumbang kepada ekonomi negara?

- I Industri pelancongan
  - II Pertanian Komersial
  - III Carigali petroleum
  - IV Industri elektrik dan elektronik
- A. I, II dan III
  - B. I, II dan IV
  - C. II, III dan IV
  - D. I, II, III, dan IV

- Berkhidmat sebagai Perdana Menteri dari tahun 1970 – 1981
- Dikenali sebagai Bapa Perpaduan kerana berjaya memupuk semangat perpaduan yang lebih erat dalam kalangan masyarakat berbilang kaum

20. Maklumat di atas adalah berkaitan dengan pemimpin Malaysia. Siapakah tokoh tersebut?

- A. Tunku Abdul Rahman
- B. Tun Abdul Razak
- C. Tun Hussein Onn
- D. Tun Dr. Mahathir Mohamad

**(20 markah)**

**BAHAGIAN B: Soalan Subjektif**

A. Jawab soalan yang berikut berdasarkan gambar di bawah.

a. Namakan rumah ibadat dalam gambar di bawah.

I. \_\_\_\_\_

II. \_\_\_\_\_

III. \_\_\_\_\_

IV. \_\_\_\_\_

b. Nyatakan dua adab atau peraturan umum yang terdapat di semua rumah ibadat.

I. \_\_\_\_\_

II. \_\_\_\_\_

c. Apakah kepentingan amalan beragama dan kepercayaan dalam masyarakat?

I. \_\_\_\_\_

II. \_\_\_\_\_



(8 markah)

B. Padankan pernyataan dengan tokoh yang betul.

|                                                  |                                             |                                                     |
|--------------------------------------------------|---------------------------------------------|-----------------------------------------------------|
| Program Transformasi Kerajaan                    | Dasar Sains dan Teknologi Negara            | Kemerdekaan Tanah Melayu                            |
| Mengalakkan perpaduan kaum untuk keamanan negara | Kuala Lumpur International Airport ( KLIA ) | Kompleks Pentadbiran Kerajaan Persekutuan Putrajaya |
| Penyata Razak 1956                               | Dasar Bioteknologi Nasional                 | 1 Malaysia                                          |
| Dasar Ekonomi Baru                               | Pembentukan Malaysia                        | Koridor Wilayah Ekonomi                             |



- \_\_\_\_\_
- \_\_\_\_\_
- \_\_\_\_\_




- \_\_\_\_\_
- \_\_\_\_\_
- \_\_\_\_\_




- \_\_\_\_\_
- \_\_\_\_\_
- \_\_\_\_\_



- \_\_\_\_\_
- \_\_\_\_\_
- \_\_\_\_\_



- \_\_\_\_\_
- \_\_\_\_\_
- \_\_\_\_\_



- \_\_\_\_\_
- \_\_\_\_\_
- \_\_\_\_\_

(12markah)



C. Padankan temasya sukan berikut dengan logonya.

Sukan Olimpik

Sukan Komanwel

Sukan SEA

Badminton All England

Sukan Asia



(5 markah)

D.Lengkapkan rajah di bawah dengan pernyataan yang betul.

**Islam**

- \_\_\_\_\_  
\_\_\_\_\_

**Hindu**

- \_\_\_\_\_  
\_\_\_\_\_

**Buddha**

- \_\_\_\_\_  
\_\_\_\_\_

**Kristian**

- \_\_\_\_\_  
\_\_\_\_\_

**Sikh**

- \_\_\_\_\_  
\_\_\_\_\_

**\* Menunaikan solat lima waktu sehari**

**\* Percaya kepada hukum karma**

**\* Bersembahyang di wat**

**\* Bersembahyang di gereja pada hari Ahad**

**\* Melakukan penghormatan kepada buku suci Guru Granth Sahib di dalam gurdwara**

swati sharma - treebut.in

(5 markah)

- KERTAS SOALAN TAMAT -